

Phòng Giáo dục và Đào tạo thành phố BẾN TRE
Trường Tiểu học Phú Hưng

Tiết 1: Bảng nhân 2

Lớp 2/3

Giáo viên: Nguyễn Thị Minh Hiếu



KHỞI ĐỘNG

TRÒ CHƠI: NHANH NHƯ CHÓP

Chuyển tổng các số hạng bằng nhau thành phép nhân tương ứng

$$2 + 2 + 2 + 2 + 2 = 10$$



$$2 \times 5 = 10$$



Xem hình rồi lập phép nhân tương ứng



$$5 \times 2$$

Chuyển phép nhân sau thành tổng các số hạng bằng nhau

$$2 \times 3 = 6$$



$$2 + 2 + 2 = 6$$

Quan sát tranh và nói những gì con đã quan sát được?

$$2 \times 3 = 6$$








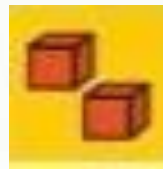
**KHÁM PHÁ
KIẾN THỨC MỚI**



2 được lấy 1 lần



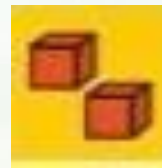
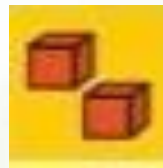
$$2 \times 1 = 2$$



2 được lấy 2 lần



$$2 \times 2 = 4$$



2 được lấy 3 lần



$$2 \times 3 = 6$$



Tính các tích trong bảng nhân 2.



$2 \times 1 = .?.$



$2 \times 2 = .?.$



$2 \times 3 = .?.$

$2 \times 4 = ?$

Mình đếm.

Mình cộng.



$2 \times 1 = 2$

$2 \times 2 = 4$

$2 \times 3 = 6$

$2 \times 4 = 8$

$2 \times 5 = 10$

$2 \times 6 = 12$

$2 \times 7 = 14$

$2 \times 8 = 16$

$2 \times 9 = 18$

$2 \times 10 = 20$

$$2 \times 1 = 2$$

$$2 \times 2 = 4$$

$$2 \times 3 = 6$$

$$2 \times 4 = 8$$

$$2 \times 5 = \dots$$

$$2 \times 6 = \dots$$

$$2 \times 7 = \dots$$

$$2 \times 8 = \dots$$

$$2 \times 9 = \dots$$

$$2 \times 10 = \dots$$



Bảng nhân 2

2	x	1	=	2
2	x	2	=	4
2	x	3	=	6
2	x	4	=	8
2	x	5	=	10
2	x	6	=	12
2	x	7	=	14
2	x	8	=	16
2	x	9	=	18
2	x	10	=	20



Bảng nhân 2

$2 \times 1 =$ 

$2 \times$  $=$ 

$2 \times 3 =$ 

 $\times 4 =$ 

$2 \times 5 =$ 

$2 \times$  $=$ 

$2 \times 7 =$ 

$2 \times$  $=$ 

$2 \times 9 =$ 

2×1  $=$ 





- 1 bạn hỏi gọi 1 bạn trả lời các phép tính trong bảng nhân 2
- Nếu trả lời đúng thì được đổi bạn khác.

Bảng nhân 2

$$2 \times 1 = 2$$

$$2 \times 2 = 4$$

$$2 \times 3 = 6$$

$$2 \times 4 = 8$$

$$2 \times 5 = 10$$

$$2 \times 6 = 12$$

$$2 \times 7 = 14$$

$$2 \times 8 = 16$$

$$2 \times 9 = 18$$

$$2 \times 10 = 20$$





LUYỆN TẬP THỰC HÀNH



1

Số :

2

4

6

8

10

12

14

16

18

20

2 Đố bạn các phép nhân trong bảng.

$$2 \times 8 = ?$$

$$2 \times 8 = 16$$

Dựa vào tích 2×5 :

$$10 + 2 + 2 + 2$$

Dựa vào tích 2×10 :

$$20 - 2 - 2$$



DẶN DÒ

